


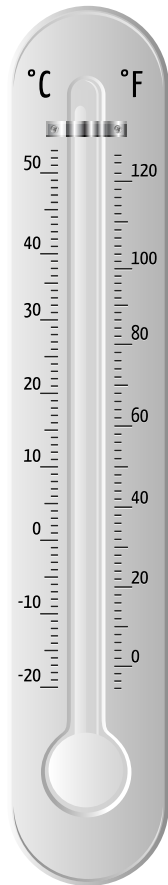
# Le moment le plus chaud de la journée

Prends la température à l'extérieur à cinq moments différents de la journée.

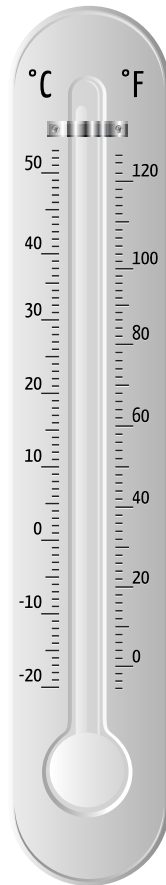
Trace une ligne rouge pour montrer la température observée.



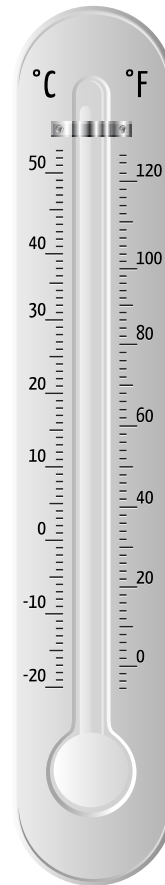
**tôt le matin**



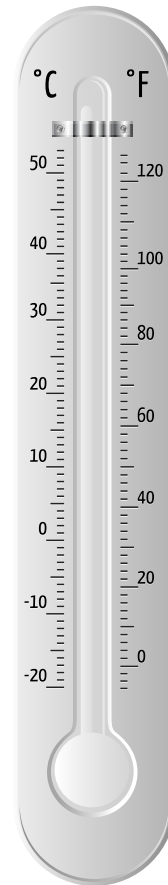
**en matinée**



**au dîner**



**en début  
d'après-midi**



**en fin  
d'après-midi**

Encerle le moment de la journée où le soleil réchauffe le plus.